

Nom :

Prénom :

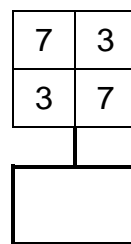
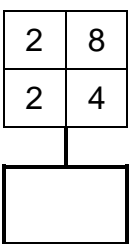
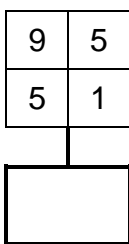
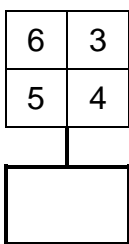
CHALLENGE CALCUL MENTAL

Novembre 2020  
Entrainement n°1



Score obtenu : ..... / 28

1) **Opérations** : Trouve la somme totale pour chaque carré.



.../4

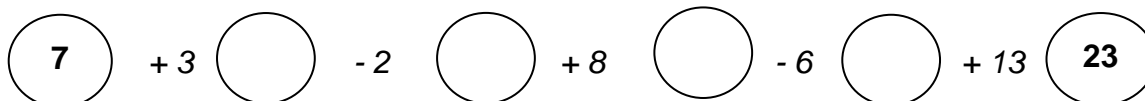
2) **Suites numériques** : Trouve la règle et écris le nombre manquant.

12 - 18 -  - 30

20 -  - 10 - 5

.../4

3) **Calculs enchaînés** : Calcule et complète les bulles.



.../4

4) **Relations entre les nombres** : Colorie d'une même couleur les cartes qui représentent le même nombre.

double de 8

moitié de 12

double de 11

moitié de 20

6

22

16

10

.../4

5) **Le compte est bon** : Effectue des calculs avec les nombres donnés pour trouver le nombre cible. Écris tes calculs dans les cases.

Attention : tu n'es pas obligé(e) d'utiliser tous les nombres et tu ne dois pas utiliser deux fois le même nombre.

8, 6, 2, 4 → (16)

6, 5, 1, 7 → (12)

.../4

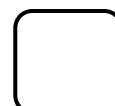

6) **Problème** : Observe l'image pour répondre.

A la rentrée, il y avait 20 crayons en tout.  
Combien de crayons ont disparu ?



.../4

7) **Léo doit faire 13 en lançant 3 dés.** Retrouve la face du 3<sup>e</sup> dé pour qu'il réussisse.



.../4